

ÉPREUVE D'HISTOIRE : 13 POINTS.

1. Questions portant sur les repères chronologiques : 3 points.

Complétez le tableau ci-dessous avec les dates et les informations demandées :

Repères	Dates
Siècle de Périclès	
Premier voyage de Christophe Colomb	
Lois scolaires de Jules Ferry créant une école dont vous préciserez les caractéristiques :	
Bataille de Verdun opposant deux pays : contre	

2. Questions portant sur les connaissances du cours : 6 points.

a) Cochez la case qui correspond à la bonne réponse.

Au cours de la Première Guerre mondiale, un génocide a été commis dans l'Empire Ottoman à l'encontre :

- des juifs
- des Arméniens
- des Tziganes

b) Quelle bataille marque le tournant de la Seconde Guerre mondiale en Europe pendant l'hiver 1942-1943 ?

.....

c) Montrez, à l'aide d'un exemple au choix, que la Seconde Guerre mondiale fut une guerre d'anéantissement :

.....

.....

.....

N° de candidat :

d) Rédigez un développement construit pour répondre à cette question : « Quelles transformations a connu le système de production industrielle depuis le début du XX^{ème} siècle ? »

Large rectangular area with horizontal dashed lines for writing.

N° de candidat :

3. Étude d'un document : 4 points.

**Affiche de la *HitlerJugend*
(Jeunesse hitlérienne), 1940.**

***Offiziere von morgen*
(les officiers de demain).**

a) Quelle est la nature de ce document ?

.....

.....

b) Décrivez l'image de façon ordonnée :

.....

.....

.....



.....

.....

.....

c) D'après ce document, quel avenir est proposé à la jeunesse par le régime nazi ?

.....

d) Indiquez deux aspects du régime totalitaire nazi révélés par ce document

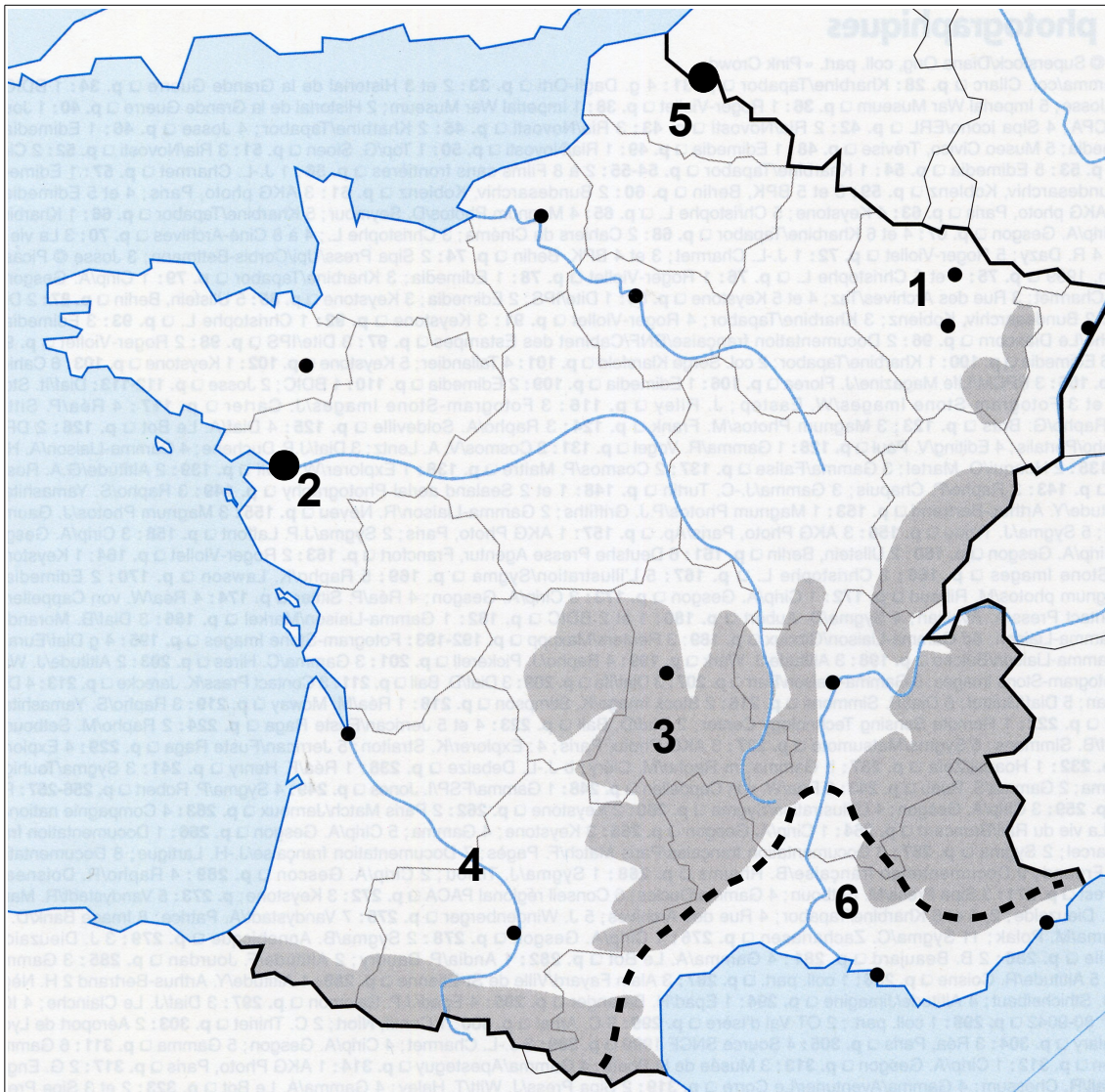
.....

.....

N° de candidat :

ÉPREUVE DE GÉOGRAPHIE : 13 POINTS.

1. Questions portant sur les repères spatiaux : 3 points.



Complétez le tableau avec les noms des repères numérotés sur la carte

1	La région natale d'un professeur d'histoire-géographie	
2	La ville où a étudié un autre professeur d'histoire-géo	
3	La montagne qui a vu grandir un 3 ^{ème} professeur d'histoire-géo	
4	Un fleuve	
5	Une ville	
6	Un domaine bioclimatique	

N° de candidat :

2. Questions portant sur les connaissances du cours : 6 points.

a) Citez un risque (naturel ou technologique, au choix) et une activité économique

majeure du Val de Loire en Région Centre :

.....

b) Rédigez un développement construit pour décrire et expliquer ce qu'est la périurbanisation.

.....

.....

.....

.....

.....

.....

.....

.....

.....

.....

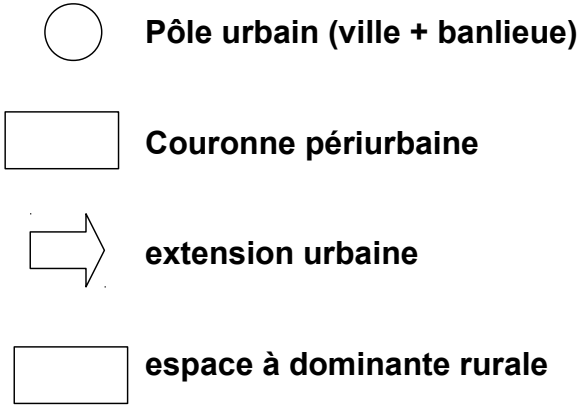




.....

.....

.....

N° de candidat :

c) Cartographie : coloriez les figurés de la légende (à droite) puis utilisez ces différents figurés pour réaliser un schéma (dans le cadre à gauche) représentant une aire urbaine et sa dynamique actuelle.

	 <ul style="list-style-type: none"> Pôle urbain (ville + banlieue) Couronne périurbaine extension urbaine espace à dominante rurale
--	--

3. Étude d'un document : 4 points.

Les dynamiques démographiques française en 2012.

« La France métropolitaine et les départements d'Outre-mer comptaient au 1er janvier 2013 65.586.000 habitants, selon les données du recensement, soit environ 300.000 personnes de plus qu'un an auparavant (+0,47%). Il s'agit de la croissance la plus faible des dix dernières années, précise l'Institut national de la statistique.

En effet en 2012, le "solde migratoire", c'est-à-dire la différence entre le nombre des personnes entrées et sorties du territoire, est resté relativement faible (+ 54 000). Surtout, le "solde naturel", soit la différence entre le nombre de naissances et le nombre de décès (+ 251 000), est parmi le plus bas de la décennie.

Avec une fécondité à 2,01 enfants par femme, la France arrive en deuxième position au sein de l'Union européenne, l'Irlande restant championne de la fécondité avec 2,05 enfants par femme.

Mais *le fait majeur de 2012, c'est le nombre de décès important*, relève Pascale Breuil, chef de l'unité des études démographiques et sociales de l'Insee. Les décès ont en effet été *particulièrement nombreux* l'an dernier. Ils ont même atteint leur niveau le plus élevé depuis 2000, en raison d'une vague de froid exceptionnelle et de plusieurs épidémies (grippe, gastro-entérites...) qui ont frappé la France au cours de l'hiver, explique l'Insee.

Comme avec la canicule en 2003, c'est un accident, pas une rupture de tendance, assure toutefois Pascale Breuil.

2012 a aussi marqué le retour en force des mariages, qui après une baisse quasiment continue depuis 2000, ont vu leur nombre augmenter l'an dernier. Quelque 241.000 mariages ont été célébrés, soit environ 4.000 de plus qu'en 2011. »

D'après le rapport de l'I.N.S.E.E. (Institut National de la Statistique et des Études Économiques) publié par l'AFP (Agence France Presse) le 15 janvier 2013.

N° de candidat :

Répondez aux questions suivantes à l'aide des informations prélevées dans le texte.

a) Quelle est la source des informations contenues dans ce document ?

.....

b) Quelle évolution générale a connu la population française en 2012 ?

.....

c) Quels sont les deux facteurs qui expliquent cette évolution ?

.....

.....

d) Quelle est la grande nouveauté dans la dynamique démographique française de 2012 par rapport aux années précédentes ?

.....

.....

e) De quelle façon la démographie française se distingue-t-elle de celle de la plupart des autres pays européens ?

.....

.....

ÉPREUVE D'ÉDUCATION CIVIQUE : 10 POINTS.

1. Questions portant sur le cours : 5 points.

a) Expliquez en quoi consiste le principe de laïcité dans la République française.

.....

.....

.....

N° de candidat :

b) Pourquoi la date de 1944 est-elle une grande étape dans l'histoire du droit de vote en France ?

.....

.....

c) Donnez un exemple de droit (civil, économique ou social) partagé par tous les habitants de France, quelle que soit leur nationalité.

.....

d) Dans le tableau ci-dessous, placez au bon endroit les trois institutions suivantes :

Président - Gouvernement - Parlement.

Institutions	Rôle
	Détermine et conduit la politique de la nation
	Vote la loi
	Assure, par son arbitrage, le fonctionnement régulier des pouvoirs publics

e) Quelle est la durée du mandat du président de la République et des députés ?

.....

f) Citez une compétence exercée par le Conseil Régional dans le cadre de la décentralisation.

.....

N° de candidat :

2. Étude d'un document : 5 points.



a) Quelle est la nature de ce document ?

.....

N° de candidat :

b) Relevez deux symboles de la République visibles sur ce document.

.....

.....

c) Quelle catégorie de personnes possède ce document ?

.....

.....

d) Quelle expression figurant sur ce document met en garde les électeurs contre les dangers de l'abstention (le refus, de la part d'un électeur, de participer au vote) ? Expliquez en quoi l'abstention peut constituer un danger pour la démocratie.

.....

.....

.....

.....

.....

Maîtrise de la langue : 4 points.