

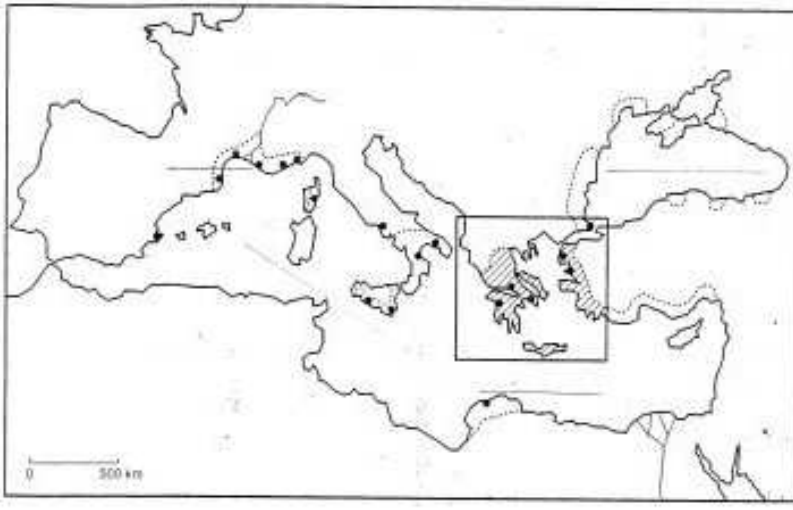
Nom:.....
Prénom:.....
Classe : 6^{ème}

Evaluation d'histoire : « La Grèce dans l'Antiquité »

1 point d'orthographe et 1 point de présentation

Chapitre 1 : Le monde Grec (13 points)

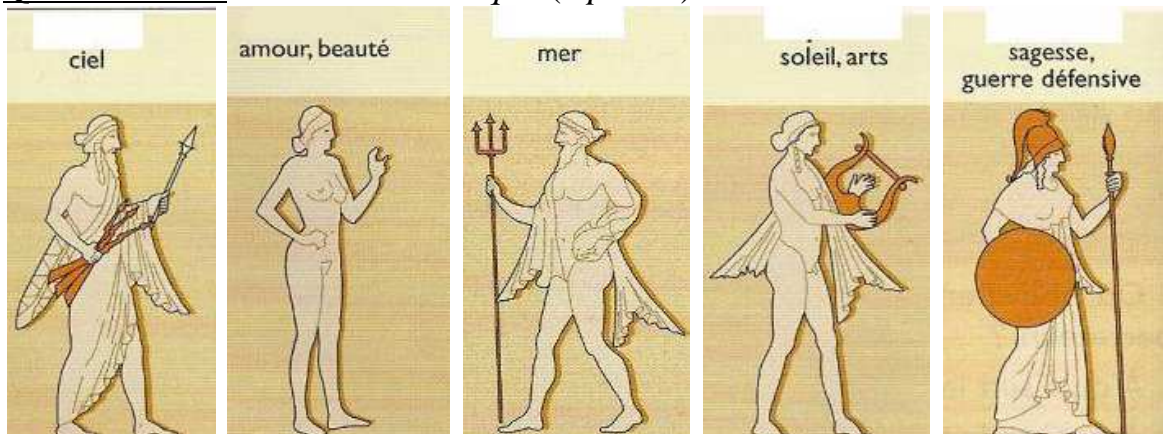
QUESTION 1 : Localisation (5 points)



Indique sur la carte :

- Les colonies Grecques
- Athènes
- Massalia
- La mer Noire
- La mer Méditerranée

QUESTION 2 : La culture Grecque (5 points)



QUESTION 3 : *vocabulaire (3 points)*

- Oracle :

.....
.....

- Pythie :

.....
.....

- Sanctuaire Panhellénique (donne un exemple):

.....
.....
.....
.....

Chapitre 2 : Athènes au Vème siècle (16 points)

QUESTION 4 : *Reconnaître la cité Grecque (11 points)*



Connais-tu d'autres bâtiments que l'on retrouve dans de nombreuses cités grecques ?

-
-

Explique ces mots :

- Métèque :.....
.....
- Ecclesia :.....
.....
- Démocratie :.....
.....

Quels sont les trois pouvoirs qui existent et qui les représentent dans la démocratie Grecque ?

- 1^{er} pouvoir =..... représenté par
- 2^{ème} pouvoir =..... représenté par
- 3^{ème} pouvoir =..... représenté par

QUESTION 5 : *Chronologie* (5points)

Quels sont les noms des trois périodes historiques du monde grec ?

-
-
-

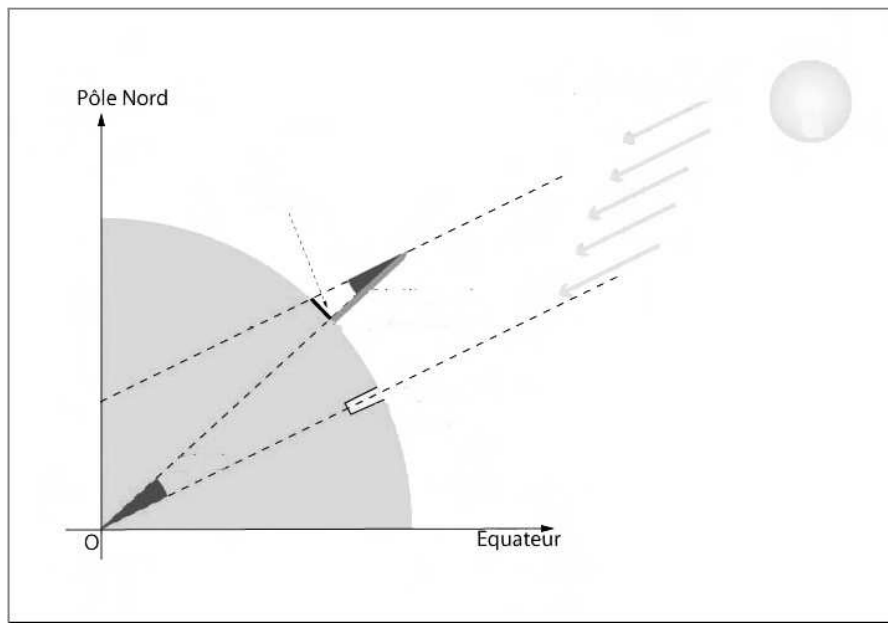
Donne le nom et la date des deux batailles célèbres des guerres médiques

-
-

Chapitre 3 : La science dans la Grèce Hellénistique (9 points)

QUESTION 6 : *Explications* (4 points)

Explique comment Eratosthène arrive à prouver que la terre est ronde et à calculer son périmètre ?



En quoi les savants Grecs sont différents des savants occidentaux à cette époque ?

