

Plan de travail: l'islam

Fiche n°1

Thème 1, chapitre 2

Liste des tâches à réaliser:

tâche 1: regarder la vidéo et compléter le questionnaire

tâche 2: compléter le fond de carte

tâche 3: définir des notions

tâche 4: compléter la frise chronologique

tâche 5: faire l'exercice sur les mosquées



Tâche 1: vidéo "la naissance de l'islam"

1. Présentez Mahomet
2. Qu'est-ce que la Révélation ?
3. Que se passe-t-il en 622 ?
4. Quel conflit émerge après la mort de Mahomet ?
5. Dans quelles circonstances le Coran est-il rédigé ?
6. Un siècle après la naissance de l'Islam, quelle est la situation de l'Empire musulman (étendue, dynastie)

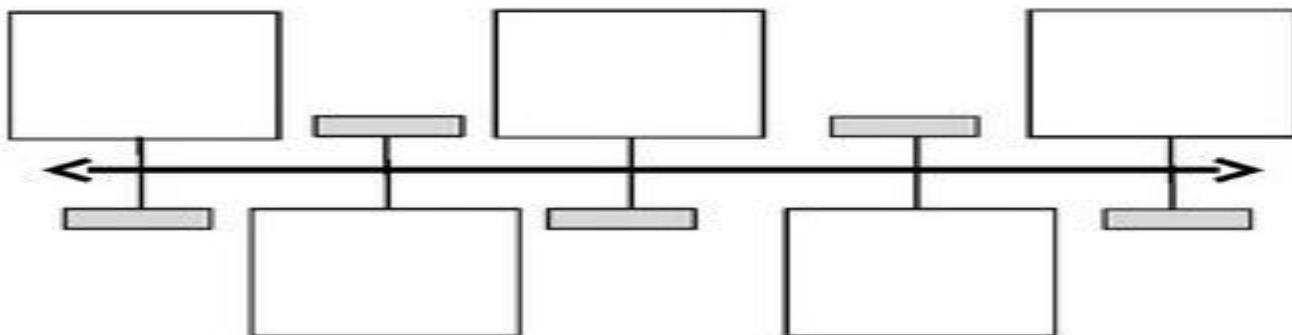
Tâche 2: Carte du monde musulman

Placer sur la carte: les villes saintes de l'islam: La Mecque, Médine, Jérusalem, les grandes villes du monde musulman: Damas, Bagdad l'expansion du monde musulman à la veille des croisades (1096)

Tâche 3: notions

Hégire, sunnite, chiite, calife, mosquée, monothéisme

Tâche 4: frise chronologique

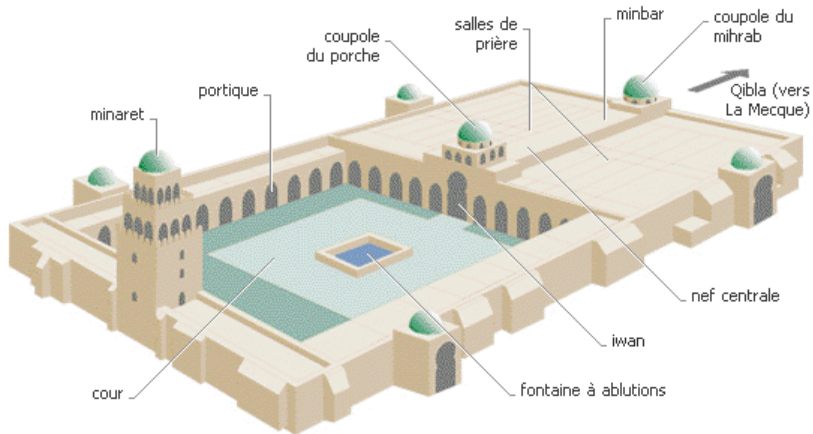


Placez les dates suivantes : hégire , prise de Constantinople par les Turcs, dynastie des Ommeyyades , dynastie des Abbassides et dynastie des Fatimides

Tâche 5: différents styles de mosquées

0. TAREZ LE TITRE ICI

- 1- Localisez chaque mosquée sur la carte (point+nom)
- 2- A quelle partie de la mosquée correspond chaque photo?
- 3- Montrez les similitudes et les différences de style.



grande mosquée de Cordoue (Espagne)




<http://www.lankaart.org/article-31312260.html>

Grande mosquée des Ommeyyades, Damas (Syrie)



Par Lofo7 — Own work, CC BY-SA 3.0,
<https://commons.wikimedia.org/w/index.php?curid=2682159>

Mosquée de la Koutoubia, Marrakech (Maroc)



<https://www.trouvetamosquee.fr/5la-koutoubia-grande-mosquee-de-marrakech-maroc78/>

Dôme du Rocher, Jérusalem-Est



https://commons.wikimedia.org/wiki/File:Dome_du_rocher.jpg